

YAKIN DOĞU İLKOKULU

2016-2017 DERS YILI

4.SINIF 1. SEVİYE TESBİT SINAVI

18 OCAK 2017 ÇARŞAMBA

Adı – Soyadı:.....

Not:.....

Sınıf :.....

Süre : 90dk.

1.OTURUM SORU KİTAPÇIĞI

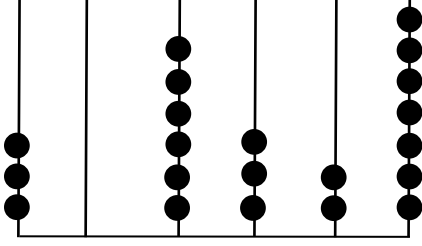
MATEMATİK – İNGİLİZCE

GENEL AÇIKLAMA

1. Bu kitapçık Matematik ve İngilizce sorularını içermektedir. Kitapçık 19 sayfadan oluşmaktadır.
2. Bu test 30 Matematik ve 20 İngilizce sorusundan oluşmaktadır. (Toplam 50 soru) Tüm soruları yanıtlamanız için size 90 dakikalık süre verilecektir.
3. Her sorunun 4 seçeneği vardır. Doğru yalnız bir tanesidir. Cevap anahtarındaki doğru cevabın harfini kurşun kalemle iyice karalayınız.
4. Bir soruda iki seçenek karalanırsa o soru yanlış olarak değerlendirilir.
5. Bilmediğiniz soru üzerinde fazla zaman harcamayınız. Zamanınız kalırsa tekrar dönersiniz.

MATEMATİK TESTİ

1.



Yukarıdaki abaküste verilen sayının çözümlenmiş şekli aşağıdakilerden hangisidir?

- A) $3 \times 10\,000 + 6 \times 1000 + 3 \times 100 + 2 \times 10 + 7 \times 1$
- B) $3 \times 100\,000 + 6 \times 10\,000 + 3 \times 100 + 2 \times 10 + 7 \times 1$
- C) $3 \times 100\,000 + 6 \times 1000 + 3 \times 10 + 2 \times 1$
- D) $3 \times 100\,000 + 6 \times 1000 + 3 \times 100 + 2 \times 10 + 7 \times 1$

2.



“altı yüz on altı bin on sekiz” doğal sayısının rakamlarla yazılışı aşağıdakilerden hangisidir?

- A) 616180
- B) 616018
- C) 616108
- D) 606118

MATEMATİK TESTİ

3. **43718** sayısında 3'ün basamak değeri ile 8'in sayı değerinin farkı kaçtır?

- A) 2992
- B) 3992
- C) 3008
- D) 3080

4. Bir çıkarma işleminde çıkan 6396, fark 7589 ise bu işlemde eksilen sayı kaçtır?

- A) 1193
- B) 12985
- C) 13985
- D) 13996

5.



Ardışık 3 sayının toplamı 141'dir. Buna göre küçük sayı ile büyük sayının toplamı kaç olur?

- A) 93
- B) 94
- C) 95
- D) 140

MATEMATİK TESTİ

6. Ayfer Naz, Pazartesi günü 130 matematik sorusu çözdü. Daha sonraki günlerde ise her gün için, bir önceki günden 28 soru daha fazla çözüp test kitabını 4 günde bitirdi. Bu test kitabında toplam kaç soru vardı?

- A) 868
- B) 710
- C) 688
- D) 788



7. Rakamları birbirinden farklı beş basamaklı en küçük sayının 324 eksiği kaçtır?

- A) 12,021
- B) 10000
- C) 10558
- D) 9910

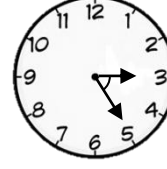
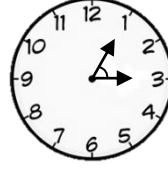
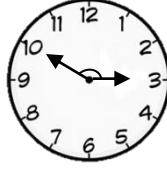
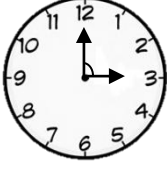


8. Efe'nin annesi LC Waikiki'den 135 TL'ye bir çanta, 249 tl'ye bie ceket ve tanesi 185 TL'ye 3 elbise alıp kasaya 1000 TL verirse üstten kaç TL alır?

- A) 39 TL
- B) 61 TL
- C) 431 TL
- D) 461 TL

MATEMATİK TESTİ


9.



Yukarıdaki saatlerde akrep ile yelkovan arasında gösterilen açılarının çeşitleri altlarına yazılmıştır. Anlış olan hangisidir?

- A) I
- B) II
- C) III
- D) IV

10.



$6755+5234$ işlemini Güner yaparken toplananları en yakın yüzlüğe yuvarlamış, İncinaz ise en yakın onluğa yuvarlamıştır. Güner'in bulduğu sonuç ile İnci Naz bulduğu sonuç arasındaki fark kaçtır?

- A) 10
- B) 15
- C) 20
- D) 30

11.

16052, 16025, 16520, 16096, 16069, 16900

Yukarıdaki karışık olarak verilen sayıları büyükten küçüğe doğru sıralarsak baştan üçüncü sayı hangisi olur?

- A) 16900
- B) 16069
- C) 16096
- D) 16520

MATEMATİK TESTİ

12.

Altmış dokuz bin yüz kırk sekiz

Yukarıda okunuşu verilen sayının rakamlarının sayı değerleri toplamı kaç olur?


- A) 30
- B) 28
- C) 13
- D) 15

13. $15 + a < 42$ eşitsizliğinde a yerine yazılabilecek en büyük sayı kaçtır?

- A) 25
- B) 26
- C) 27
- D) 28

14.

Çakıl-kum taşıyan bir kamyon bizim inşaata 9375 ton çakıl ve getirdiği çakıldan 7089 ton daha fazla kum taşıdı. Bu kamyon bizim inşaata toplam kaç ton kum-çakıl taşımıştır?



- A) 14464
- B) 15464
- C) 25000
- D) 25839

MATEMATİK TESTİ

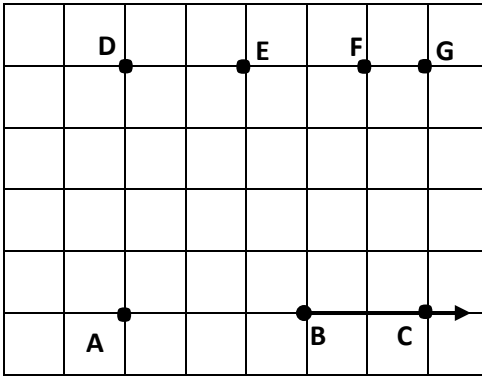
15. Suna'nın dedesi Pazartesi günü 6543 metre yürüyüş yapıyor. Salı gün 5346 metre yürüyor. Çarşamba gün ise Salı gününden 672 metre daha fazla yürüyor. Suna'nın dedesi üç günde toplam kaç metre yürüyor?

- A) 17907 metre
- B) 12561 metre
- C) 17905 metre
- D) 17900 metre

16. Bayram harçlığımı biriktirip, 1600 TL değerinde olan bir bisiklet almak istiyordum ama ben bayramda 930 TL biriktirebildim. Acaba babam bana kaç TL verirse bu bisikleti alabilirim?

- A) 660 TL
- B) 670 TL
- C) 760 TL
- D) 770 TL

17.




Yukarıdaki kareli zeminde BC ışınındaki B noktasını hangi nokta ile birleştirirsek bir geniş açı oluştururuz?

- A) F noktasını
- B) G noktasını
- C) E noktasını
- D) D noktasını

MATEMATİK TESTİ

18. "On altı bin altı" sayısını yazarken kaç tane sıfır kullanılır?




- A) 4 tane
- B) 3 tane
- C) 2 tane
- D) 1 tane

19. Rakamları birbirinden farklı dört basamaklı en büyük sayının ardışığı kaçtır?

- A) 9876
- B) 9087
- C) 9786
- D) 9877

- 20.

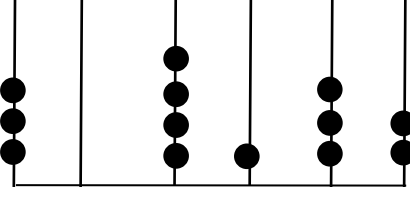


83739 sayısında bulunan 3 rakamlarının basamak değerleri farkı kaçtır?

- A) 0
- B) 3030
- C) 2970
- D) 2930

MATEMATİK TESTİ

21.



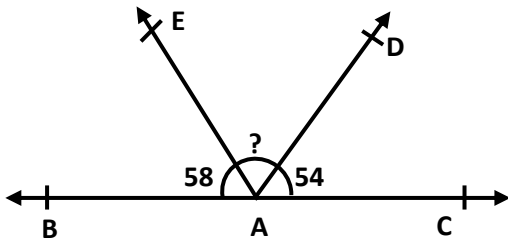
Yandaki abaküsteki sayı ile 502 sayısını toplarsak kaç buluruz?

- A) 304644
- B) 304634
- C) 304643
- D) 304633

22. Laren ile kardeşinin kumbaralarında birikmiş paraları toplamı 640 TL'dir. Laren'in parası kardeşinin parasından 60 TL daha fazla birikmiş olduğu göre Laren'in kumbarasından kaç TL çıkmıştır?

- A) 290 TL
- B) 330 TL
- C) 350 TL
- D) 360 TL

23.



Yandaki şekilde $\widehat{BAE}=58^\circ$, $\widehat{DAC}=54^\circ$ 'dir. Buna göre $\widehat{DAE} = ?$ derece olmalıdır?

- A) 53°
- B) 58°
- C) 64°
- D) 68°

MATEMATİK TESTİ

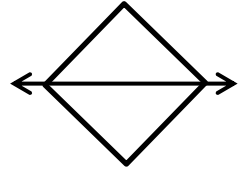
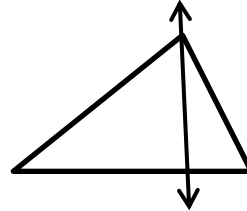

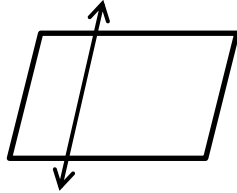
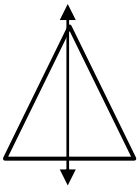
24. "67485" sayısında kaç tane yüzlük vardır?

- A) 67
- B) 674
- C) 6748
- D) 6

25. "38967" beş basamaklı sayısında 8 rakamının basamak değeri kaçtır?

- A) 8
- B) 80
- C) 800
- D) 8000

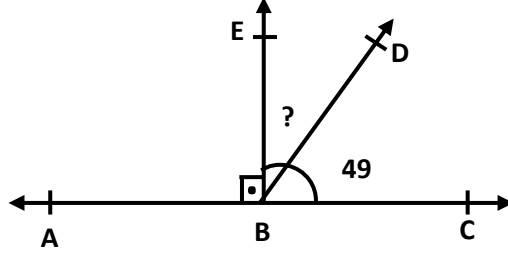
26. Aşağıdaki şekillerden kaç tanesinin simetri doğrusu yanlış çizilmiştir?



- A) 4
- B) 3
- C) 2
- D) 1

MATEMATİK TESTİ

27. Aşağıdaki şekilde $\widehat{DBC} = 49^\circ$ dır. Soru işaretiyle gösterilen $\widehat{EBD} =$ kaç derecedir?



- A) 41°
- B) 131°
- C) 49°
- D) 51°

28. “Dört bin üç yüz altmış iki” şeklinde okunuşu verilen sayıda kaç tane onluk vardır?

- A) Kırk üç
- B) Dört yüz otuz altı
- C) Dört bin üç yüz altmış iki
- D) Dört

29.

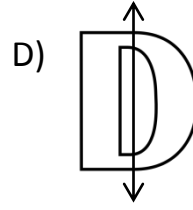
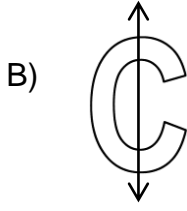
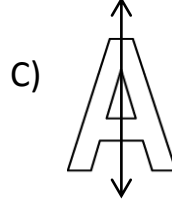
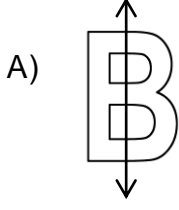
2416 – 2461 – 2419 - -2499 - 2409

Yukarıda verilen sayıları küçükten büyüğe doğru sıralarsak baştan ikinci hangisi olur?

- A) 2099
- B) 2419
- C) 2416
- D) 2409

MATEMATİK TESTİ

30. Aşağıdak harflerin hangisinin simetrisi doğru çizilmiştir?



MATEMATİK TESTİNİZ BİTMİŞTİR YANITLARINIZI KONTROL EDEREK İNGİLİZCE
TESTİNE GEÇİNİZ.

İNGİLİZCE TESTİ

Choose the correct answer: a, b, c or d.

31. I watching TV.

- A) doesn't like
- B) likes
- C) like
- D) am liking




32. are you doing? I'm doing my homework.

- A) Where
- B) When
- C) Why
- D) What



33. February is the month of the year.

- A) third
- B) first
- C) second
- D) fourth



İNGİLİZCE TESTİ

34. My mum is not happy. She is

- A) expensive
- B) blue
- C) sad
- D) new



35. My cousin excited because he has got a new bike.

- A) am
- B) is
- C) are
- D) aren't



36. My dad got brown hair but my mum hasn't. She got blonde hair.

- A) hasn't / has
- B) have / have
- C) has got / has
- D) has / has



İNGİLİZCE TESTİ

37. You listen to your parents.

- A) must
- B) mustn't
- C) are
- D) aren't



38. In summer, it is hot and

- A) wind
- B) sunny
- C) snow
- D) rain

39..... are those books? They are Sally's.

- A) Who
- B) What
- C) Where
- D) Whose



40. Take your It's raining.

- A) T-shirt
- B) umbrella
- C) sock
- D) swimsuit

İNGİLİZCE TESTİ

41. How old your grandmother? is sixty years old.

- A) are / We
- B) is / She
- C) is / He
- D) are / They

42. Can your aunt drive a car? No, she

- A) hasn't
- B) isn't
- C) is
- D) can't



43. My friends and I usually football after school.

- A) play
- B) plays
- C) are playing
- D) am playing

44. My sister at the moment.

- A) shopping
- B) shops
- C) shop
- D) is shopping



İNGİLİZCE TESTİ

45. Sally and Peter have got a new car. car is red.

- A) Our
- B) His
- C) Her
- D) Their



Read and answer questions 46-50.

Hi Ahmet,

I'm your new penfriend. I'm from London. I'm a student. I like English, maths and Turkish lessons. I like all my teachers. My favourite lesson is sports. At school, my friends and I can play basketball and football. We can't play tennis or volleyball. I don't have lessons after school. I always go home and study.

In my free time, I like listening to music and dancing. I don't like singing. I never sing. At the weekends, I often go swimming. Sometimes, I go to the cinema with my brother and sister.

What do you like doing in your free time?

Please write soon,

Alex

46. Who is Ahmet's penfriend?

- A) His sister.
- B) His brother.
- C) His friends.
- D) Alex.

İNGİLİZCE TESTİ

47. What is Alex's favourite lesson?

- A) sports.
- B) maths.
- C) English.
- D) Turkish.

48. What sport can Alex play at school?

- A) Basketball.
- B) Tennis.
- C) Volleyball.
- D) Swimming.

49. What does Alex do after school?

- A) He studies.
- B) He plays tennis.
- C) He plays volleyball.
- D) He sings.

50. Who goes to the cinema with Alex?

- A) His teachers.
- B) His friends.
- C) His brother and sister.
- D) At the weekends.

İNGİLİZCE TESTİNİZ BİTMİŞTİR YANITLARINIZI KONTROL EDİNİZ.