

YAKIN DOĞU İLKOKULU

2016-2017 DERS YILI

5.SINIF 1. BURS SINAVI

12 OCAK 2017 PERŞEMBE

Adı – Soyadı:.....

Not:.....

Sınıf :.....

Süre : 90dk.

2.OTURUM SORU KİTAPÇIĐI

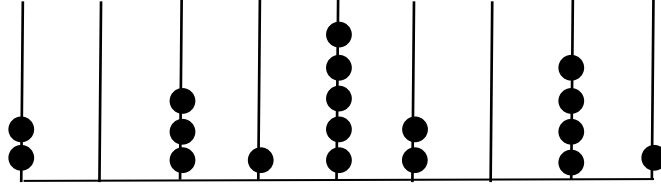
MATEMATİK – İNGİLİZCE

GENEL AÇIKLAMA

1. Bu kitapçık Matematik ve İngilizce sorularını içermektedir. Kitapçık 19 sayfadan oluşmaktadır.
2. Bu test 30 Matematik ve 20 İngilizce sorusundan oluşmaktadır. (Toplam 50 soru) Tüm soruları yanıtlamanız için size 90 dakikalık süre verilecektir.
3. Her sorunun 4 seçeneđi vardır. Doğru yalnız bir tanesidir. Cevap anahtarındaki doğru cevabın harfini kurşun kalemle iyice karalayınız.
4. Bir soruda iki seçenek karalanırsa o soru yanlış olarak değerlendirilir.
5. Bilmediđiniz soru üzerinde fazla zaman harcamayınız. Zamanınız kalırsa tekrar dönersiniz.

MATEMATİK TESTİ

1.




Yukarıdaki abaküste modeli gösterilen sayının ardışığının rakamlarla yazılışı hangi seçenekte doğru olarak verilmiştir?

- A) 203 152 041
- B) 203 152 051
- C) 203 152 042
- D) 203 152 052


2.



1.adım




2. adım



3. adım

.....

.....



18. adım

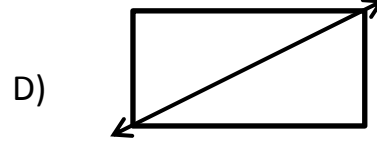
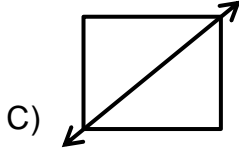

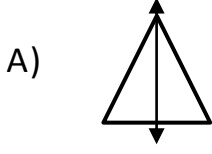


Yukarıdaki örüntünün 18. adımındaki dikdörtgenin içerisinde kaç tane top olmalıdır?

- A) 48
- B) 50
- C) 51
- D) 52

MATEMATİK TESTİ

3. Aşağıdaki şekillerden hangisindeki doğru, şeklin simetri doğrusu değildir?



4. Mahallemizin bakkalı Hüseyin Dayı, Aydın Yağ Fabrikası'ndan 135 adet 5 litrelik yağı 9450 TL'ye almıştır. Hüseyin Dayı bu yağları birer litrelik şişelere doldurup tanesini 17 TL'den satmıştır. Hüseyin Dayı bu alışverişten kaç TL kâr etmiştir?

- A) 2025 TL
- B) Hiç kâr etmedi
- C) 2000 TL
- D) 1200 TL

5.



Babam, kardeşimin sünneti nedeniyle evimizde misafirlerimize yapacağı kebab için kasaptan bir miktar et aldı ve kasaba 168 TL ödedi. Eğer 4 kg daha fazla et alsaydı kasaba 264 TL ödeyecekti. Babam kasaptan kaç kg et almıştır?

- A) 24
- B) 11
- C) 6

MATEMATİK TESTİ

D) 7

6. Dedemin zeytinlerini bu yıl babam, üç kardeşiyle anlaşarak birlikte topladılar. Toplam 3072 kg zeytin elde ettiler. Bunları eşit olarak bölüştüler. Babam kendisine düşen miktarı yağ çıkarmak için fabrikaya gitti. 12 kg zeytinden bir kg yağ elde edildiğine göre babam kaç kg yağ çıkarmıştır?

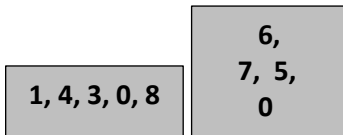
- A) 60
- B) 64
- C) 256
- D) 68



7. **24768** sayısını en yakın yüzlüğe, **16503** sayısını da en yakın onluğa yuvarlayıp toplarsak hangi sayı buluruz?

- A) 41301
- B) 42300
- C) 41300
- D) 42301

8.



Yandaki dikdörtgen içinde verilen rakamlarla oluşturabileceğimiz beş basamaklı en büyük sayı ile kare içindeki rakamlarla oluşturabileceğimiz dört basamaklı en küçük sayının farkı kaçtır?

- A) 79377
- B) 79243

MATEMATİK TESTİ

C) 89243

D) 89377

9.



Görmezler Derneği okulumuzda yardım amacıyla satılmak üzere her biri 6 TL olan bir miktar bilet gönderdi. Bilet numaraları 67'den 196'ya kadar olduğuna göre derneğe kaç TL ödenecek?

A) 780 TL

B) 774 TL

C) 768 TL

D) 700 TL

10. Berfin ile anneannesinin yaşları toplamı 67'dir. 4 yıl sonra Berfin ile anneannesinin yaşları toplamı kaç olacak?

A) 71

B) 75

C) 77

D) 70

11. $500500 \div 50 =$ işleminin sonucu kaçtır?

A) 10100

B) 11000

C) 10001

D) 10010

12. 38° lik bir dar açının tümler açısı ile bütünler açısını toplarsam kaç bulurum?

A) 142

B) 182

MATEMATİK TESTİ

C) 194

D) 184

13. Bir çıkarma işleminde eksilen, çıkan ve farkın toplamı 6200'dür. Bu işlemde fark 610 ise çıkan kaçtır?

A) 2490


B) 2500

C) 2390

D) 2600

14.

Uzun bir keresteden 13 kesim yaparak 30'ar cm'lik parçalar alıp cetvel yapmak istedik. Acaba bu kereste kesilmeden önce kaç cm boyunda idi?



A) 390 cm

B) 400cm

C) 420cm

D) 440cm

15. Aralarında 67'şer fark olan 5 sayının toplamı 1290'dır. Buna göre en büyük sayı kaçtır?

A) 325

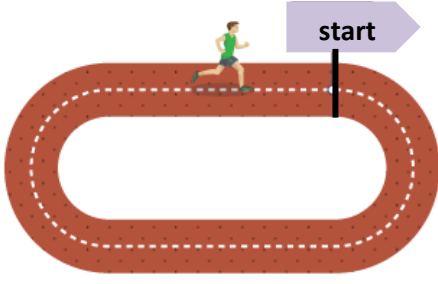
B) 392

C) 516

D) 394

MATEMATİK TESTİ

16.



Şekildeki gibi bir futbol sahasının etrafındaki koşu parkurunun bir tur uzunluğu 415'dir. Bu parkurda yapılacak 3000 m'lik uzun koşunun bitiş yeri start çizgisine göre nerede olur?

- A) Start çizgisinin tam üzerinde.
- B) Start çizgisinin 415 metre gerisinde.
- C) Start çizgisinin 95 metre gerisinde.
- D) Start çizgisinin 95 metre ilerisinde.

17. Gömlek satan bir mağaza yılbaşı dolayısıyla bir kampanya düzenliyor. Kampanyaya göre bir gömlek alana ikinci gömlek yarı fiyatına satılacak. Bu mağazadan iki gömlek alan Hüseyin Bey 102 TL ödüyor. Acaba bir tek gömlek alan Hasan Bey kaç TL ödeyecek?

- A) 80 TL
- B) 51 TL
- C) 68 TL
- D) 76 TL

18. BRT televizyonunun çocuklara yönelik çizgi film kuşağı her gün 9.55'te başlayıp, 11.05'te bitiyor. Ancak bu süre içinde BRT 6'şar dakikalık 3 tane de reklam arası veriyor. BRT, bu çocuk programını reklamsız yayınlasaydı program kaç dk sürerdi?

- A) 52 dk
- B) 70 dk
- C) 58 dk


MATEMATİK TESTİ

D) 62 dk

19. Koop-Süt fabrikasında işlenen süt 2'şer litrelik 1050 tane şişeye dolduruldu. Ertesi gün aynı miktar süt 3'er litrelik şişelere doldurulmak istenirse kaç tane şişeye ihtiyaç vardır?

- A) 700 tane
- B) 690 tane
- C) 600 tane
- D) 1000 tane

20.



Akşam 10.30'da yatıp sabah 8.45'te uyanan Melin'in kardeşi ne kadar süre uyumuş olur?

- A) 10 saat 75 dk.
- B) 11 saat 5 dk.
- C) 10 saat 15 dk.
- D) 11 saat 15 dk.

21. İki bölüklü en küçük sayı ile dört basamaklı en büyük sayının toplamı kaçtır?

- A) 100999
- B) 10999
- C) 10099

MATEMATİK TESTİ

D) 199999

22. $(5^2+4^2)-3^2=$ işleminin sonucu kaçtır?

A) 12

B) 32

C) 30

D) 24

23. Toplam 60 kg kahve çekirdeği alıp öğüterek paketleyip satmak isteyen kahveci Con, aşağıda miktarları ve satış fiyatları yazılı paketlerden hangisini satın alırsa en az parayı ödemiş olur?

A)

Kahve Çekirdeği
5 kg
40 TL

C)

Kahve Çekirdeği
2 kg
20 TL

B)

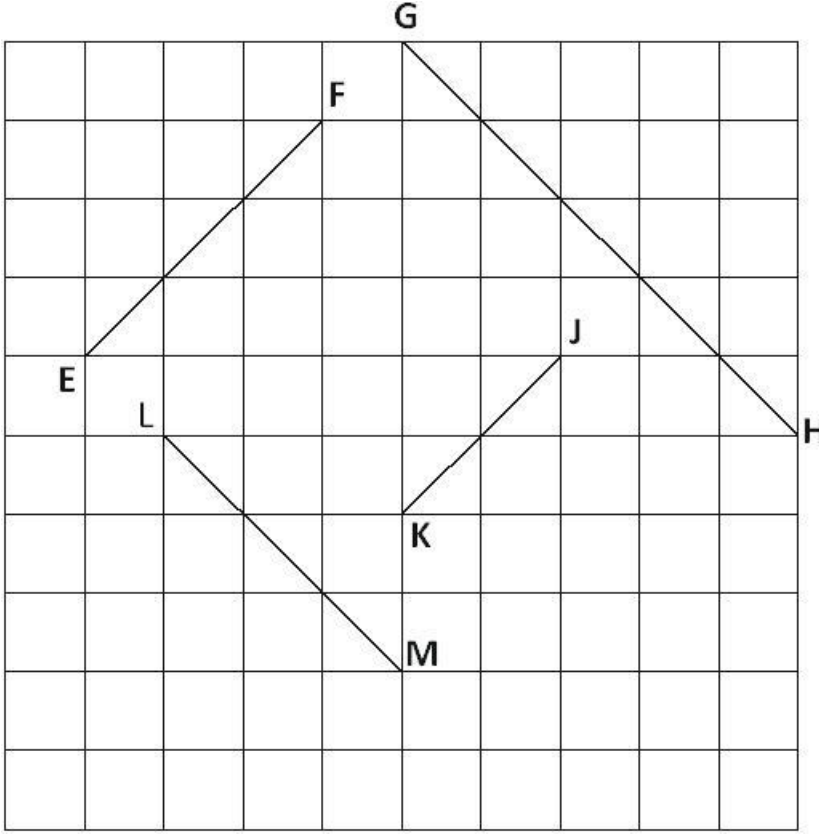
Kahve Çekirdeği
4 kg
36 TL

D)

Kahve Çekirdeği
3 kg
21 TL

MATEMATİK TESTİ

24.



Yanda verilen doğru parçaları için aşağıdaki ifadelerden hangisi yanlıştır?

- A) $|EF| = |LM|$
- B) $|EF| \parallel |LM|$
- C) $|LM| \parallel |GH|$
- D) $|EF| \parallel |JK|$

25. Lefkoşa'da çok uzun süreden beridir restore edilen ve açılışı yapılan Kumarcılar Hanı'na cumartesi 7468 turist, pazar 3814 turist, pazartesi ise 2615 turist ziyaret etmiştir. Kumarcılar Hanı'nı üç günde kaç turist ziyaret etmiştir?

- A) 12897
- B) 13978
- C) 13897

MATEMATİK TESTİ

D) 12798

26.

$$\begin{array}{r|l} ABCD & 32 \\ \hline & 129 \\ \hline & \dots\dots \end{array}$$

Yandaki ABCD dört basamaklı bir sayıdır. Bu sayı en fazla kaç olabilir?

A) 4159

B) 4128

C) 4153

D) 4160

27. Mertkan ile Doruk'un toplam 58 tane tasesu vardır. Mertkan, Doruk'a 8 taso verirse tasoları eşit olur. Buna göre; Mertkan'ın başlangıçta kaç tasesu vardır?

A) 37

B) 21

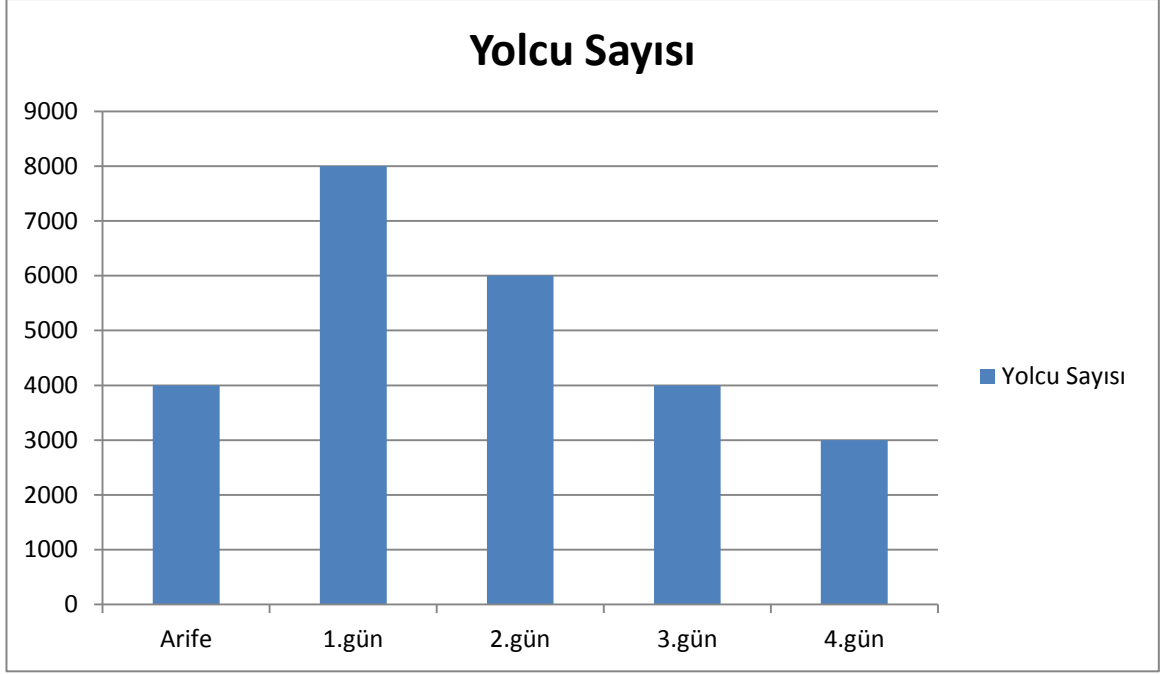
C) 50

D) 42



MATEMATİK TESTİ

28.

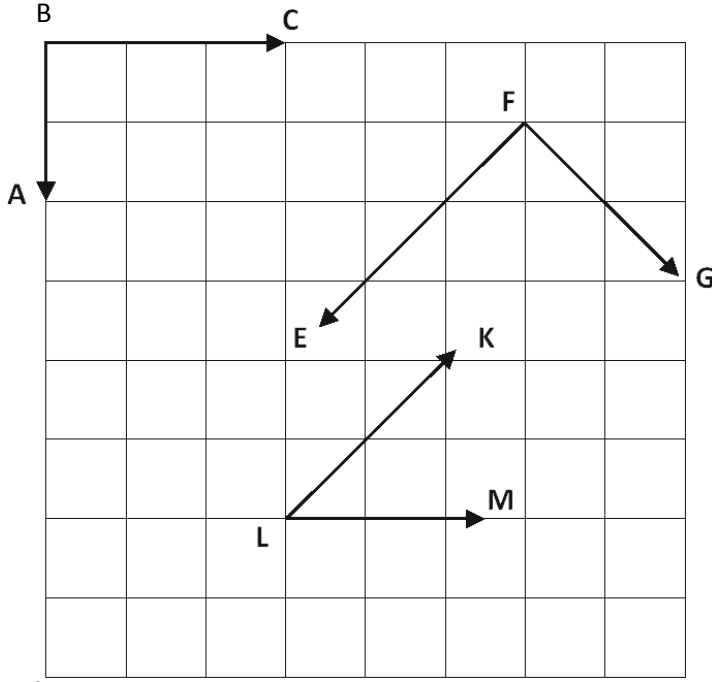


Yukarıdaki grafik Kurban Bayramı arifesinde ve 4 günlük Kurban Bayramı süresince Ercan Havaalanı'na gelen yolcuları göstermektedir. Bu grafiğe göre aşağıda verilenlerden hangisi yanlıştır?

- A) Arife günü ve bayramın 3. günü gelen yolcuların toplamı kadar, bayramın 1. günü yolcu gelmiştir.
- B) Diğer günlere göre en fazla yolcu bayramın 1. günü gelmiştir.
- C) 5 günlük sürede toplam 25000 yolcu gelmiştir.
- D) Bayramın 4. günü gelen yolcu sayısı arife günü gelen yolcu sayısından fazladır.

MATEMATİK TESTİ

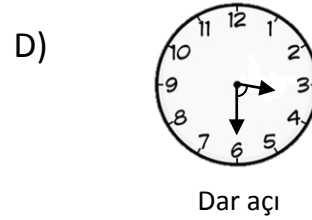
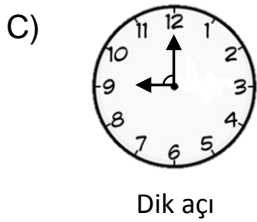
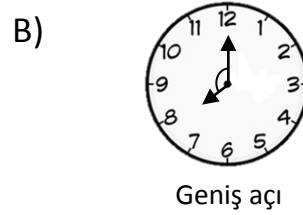
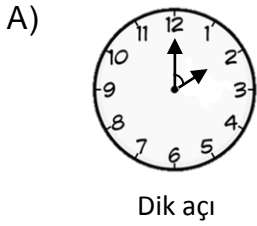
29.



Yandaki kareli kâğıtta verilen \widehat{ABC} , \widehat{EFG} ve \widehat{KLM} açılarının toplamı kaç derecedir?

- A) 135°
- B) 225°
- C) 180°
- D) 280°

30. Aşağıdaki saatlerde akrep ile yelkovan arasında belirtilen açılardan hangisi yanlıştır?



MATEMATİK TESTİNİZ BİTMİŞTİR. YANITLARINIZI KONTROL EDEREK İNGİLİZCE TESTİNE GEÇİNİZ.

İNGİLİZCE TESTİ

Choose the correct answer: a, b, c or d.

31. My grandparents' house in Nicosia.

- A) are
- B) lives
- C) is
- D) it

32.



..... your parents old?

No. old.



- A) Are / they aren't
- B) Is / it isn't
- C) Are / they are
- D) Do / not

33. My favourite animals dogs. I don't like them.

- A) is
- B) aren't
- C) isn't
- D) are



İNGİLİZCE TESTİ

34. A: Where the coffee, mum?

B: in the kitchen on the table.

- A) is / It
- B) are / Is it
- C) is / It's
- D) are / They're

35. A: your brother got a new car?

B: Yes, his car new.

- A) Have / he's got
- B) Has / is
- C) Is / is
- D) Does / is



36. September comes after

- A) August
- B) November
- C) December
- D) October

37. Sam is in the race.

- A) last
- B) second
- C) three
- D) first



Sam Peter Sally

İNGİLİZCE TESTİ

38. My mum and dad in the garden now.

- A) work
- B) is working
- C) are working
- D) working

39. There is some in the cupboard.

- A) carrots
- B) books
- C) sugar
- D) cups



40. A: Where is your ?

B: It's in the bedroom.

- A) brother
- B) sister
- C) cat
- D) parents

41. I usually tidy my bedroom Friday nights.


- A) at
- B) in
- C) above
- D) on



İNGİLİZCE TESTİ

42. What is the time?

- A) It's ten past three.
- B) It's quarter to three.
- C) It's quarter past three.
- D) It's quarter past two.




43. My parents don't buy me presents at New Year. They always give me money.

- A) some / some
- B) some / any
- C) any / some
- D) lots / a

44. A: The blue whale is animal in the world.

- A) biggest
- B) bigger
- C) the biggest
- D) big



45. Emma: homework does your teacher give you every day?

Paul: Two pages.

- A) How
- B) How much
- C) How many
- D) Who



İNGİLİZCE TESTİ

94 Moon Street
Bromley
Kent
BR1 3JD

12th March

Dear nanny and granddad,

How are you? I am very happy because I am going to summer camp with my school friends in August. The camp is in the mountains and we can do lots of different activities there like volleyball, horse-riding, swimming and mountain climbing. First, I want to try horse-riding because it sounds exciting and I like horses. I don't want to try mountain climbing. That is dangerous. Our teacher said we can go swimming in the lake. I love swimming. My friends and I all play volleyball, so we can play that, too.

Mum and Dad are staying at home to look after our dogs. We have two now. I usually walk them after school.

Dad said you are coming to stay with us in April. I can go fishing with granddad. The weather is usually nice, so we can all go to the park and have a picnic, too.

See you soon,

Peter xxx

Read and answer questions 46-50.

46. Where does Peter live?

- A) On the moon.
- B) In the mountains.
- C) In Bromley.
- D) With his grandparents.

İNGİLİZCE TESTİ

47. When is Peter going to camp?

- A) In March.
- B) In April.
- C) In August.
- D) After school.



48. What does Peter do after school?

- A) He walks the dogs.
- B) He swims in the lake.
- C) He goes to the park.
- D) He goes fishing with granddad.

49. Which activity does Peter not want to try?

- A) Horse-riding.
- B) Volleyball.
- C) Swimming.
- D) Mountain climbing.

50. Which one is correct?

- A) Peter is going to summer camp with his parents.
- B) Peter can swim in the lake.
- C) Mountain climbing is exciting.
- D) Peter doesn't play volleyball.

İNGİLİZCE TESTİNİZ BİTMİŞTİR YANITLARINIZI KONTROL EDİNİZ.