

YAKIN DOĞU İLKOKULU

2016-2017 DERS YILI

5.SINIF 3. BURS SINAVI

11 MAYIS 2017 PERŞEMBE

Adı – Soyadı:.....

Not:.....

Sınıf :.....

Süre : 90dk.

2.OTURUM SORU KİTAPÇIĐI

MATEMATİK – İNGİLİZCE

GENEL AÇIKLAMA

1. Bu kitapçık Matematik ve İngilizce sorularını içermektedir. Kitapçık 20 sayfadan oluşmaktadır.
2. Bu test 30 Matematik ve 20 İngilizce sorusundan oluşmaktadır. (Toplam 50 soru) Tüm soruları yanıtlamanız için size 90 dakikalık süre verilecektir.
3. Her sorunun 4 seçeneđi vardır. Doğru yalnız bir tanesidir. Cevap anahtarındaki doğru cevabın harfini kurşun kalemle iyice karalayınız.
4. Bir soruda birden çok seçenek karalanırsa o soru yanlış olarak değerlendirilir.
5. Bilmediđiniz soru üzerinde fazla zaman harcamayınız. Zamanınız kalırsa tekrar dönersiniz.

MATEMATİK TESTİ

1. Aşağıda verilen sayılardan hangisi “yirmi milyon yirmi bin yüz yirmi bir” sayısından 1021 fazladır?

- A) 20 021 042
- B) 20 020 142
- C) 20 021 142
- D) 20 121 142

2. Turizm Bakanlığı'nın yaptığı bir istatistiğe göre Büyük Han'ı 2015 yılında 36425 kişi, 2016 yılında bir önceki yıla göre 9648 daha fazla kişi ziyaret etmiştir.

Buna göre 2015 ve 2016 yıllarında Büyük Han'ı toplam kaç kişi ziyaret etmiştir?

- A) 46 073
- B) 82 498
- C) 72 850
- D) 92 146

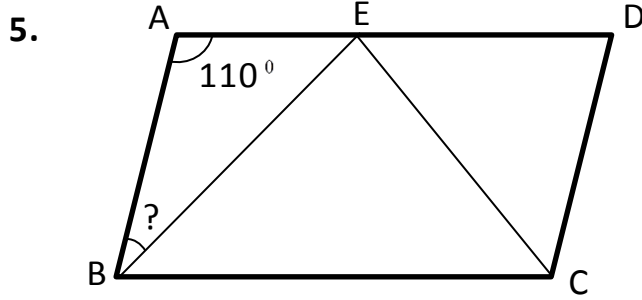
3. “3 – 6 – 2 – 7 – 5 – 4 – 1” rakamlarıyla yazılabilecek rakamları birbirinden farklı yedi basamaklı en küçük sayı ile, rakamları birbirinden farklı altı basamaklı en büyük tek sayının farkı kaçtır?

- A) 469 136
- B) 469 135
- C) 530 864
- D) 465 136

MATEMATİK TESTİ

4. Işıl, her gün 24 sayfa okuyarak kitabını 16 günde bitiriyor. Işıl, kitabını bu süreden 4 gün daha önce bitirebilmesi için günde kaç sayfa daha fazla okuması gerekir?

- A) 32
- B) 26
- C) 8
- D) 4



Yukarıdaki şekilde ABCD dörtgeni bir paralelkenardır. İçindeki $\triangle BEC$ ise bir eşkenar üçgendir. $m(\widehat{BAE})=110^\circ$ olduğuna göre $m(\widehat{ABE})$ kaç derecedir?

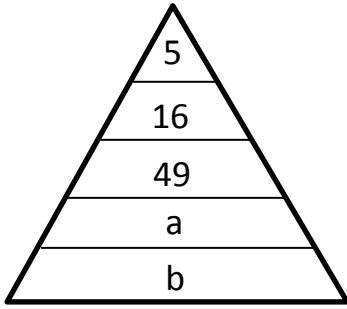
- A) 50°
- B) 40°
- C) 20°
- D) 10°

MATEMATİK TESTİ

6. 90 soruluk bir sınava giren Ahmet tüm soruları yanıtlamıştır. Ahmet soruların % 90'ına doğru cevap vermiştir. Bu sınavda 3 yanlış bir doğruyu götürdüğüne göre Ahmet 90 üzerinden kaç almıştır?

- A) 81
- B) 78
- C) 90
- D) 9

7.



Yukarıdaki piramitteki örüntüye göre sayılar belirli bir kurala göre dizilmiştir. Buna göre $b-a$ kaç olur?

- A) 297
- B) 368
- C) 363
- D) 367


MATEMATİK TESTİ

8. Bir kargo şirketi 45 dakikada bir, düzenli olarak dağıtım için ofisten araba çıkarır. İlk dağıtıma 08:20'de çıkarsa 9. dağıtıma saat kaçta çıkacaktır?

- A) 13:20
- B) 14:20
- C) 15:05
- D) 14:05



9.



Yukarıda modellenerek verilen toplama işleminin sonucu aşağıdakilerden hangisidir?

- A) 0.25
- B) 0.50
- C) 0.75
- D) 0.90

MATEMATİK TESTİ

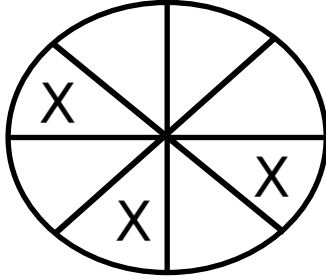
10. Vitamin Kafe'de günlük satılan içecek sayısı ve içecek çeşitleri aşağıdaki tabloda verilmiştir.

İçecek çeşidi	Kahve	Çay	Su	Portakal suyu	Nar suyu
İçecek sayısı	40	35	50	25	20

Bu tabloda verilenlere göre aşağıda verilenlerden hangisi yanlıştır?

- A) Bir günde satılan toplam içecek sayısı 170'tir.
- B) Satılan su sayısı, satılan portakal suyu sayısının iki katıdır.
- C) En çok satılan içecek sayısı, en az satılan içecek sayısının 3 katından 10 eksiktir.
- D) Satılan kahve sayısı, satılan nar suyu sayısının yarısıdır.

11.



1200 gram ağırlığındaki bir ekmek kadayıfı yukarıdaki gibi eş parçalara ayrılmıştır. Buna göre misafirleri için bu ekmek kadayıfının işaretlenmiş parçalarını alan Şengül Hanım, evde bu aldığı parçaları ikiye bölerek misafirlerine ikram etmiştir. Gelen misafirlerden her birine kaç gram ekmek kadayıfı ikram etmiş olur?

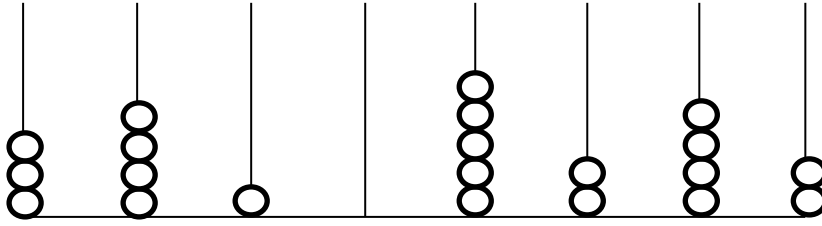
- A) 450 gram
- B) 350 gram
- C) 150 gram
- D) 75 gram

MATEMATİK TESTİ

12. Yakın Doğu Üniversitesi Atatürk Kültür ve Kongre Merkezi'nde (AKKM) orta basamakların solunda 32 sıra ve her sırada 15 koltuk, sağ tarafında 33 sıra ve her sırada 13 koltuk vardır. Geçen hafta Fısıltı Tiyatrosu'nun oynadığı "Keloğlan Aramızda" oyununu okulumuzdan 542 kişi başka bir okuldan 224 kişi ile birlikte seyretti. Acaba bu oyunda AKKM'de kaç koltuk boş kaldı?

- A) 143
- B) 429
- C) 480
- D) 766

13.



Yukarıdaki abaküste gösterilmek istenen sayı, 76 738 653 olduğuna göre abaküse kaç tane daha boncuk yerleştirilmesi gerekir?

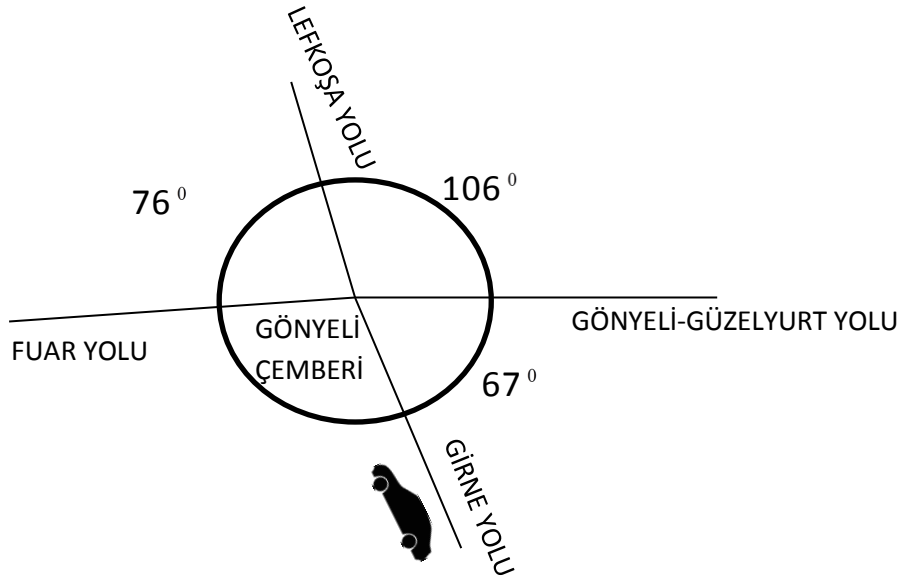
- A) 20
- B) 22
- C) 24
- D) 26

MATEMATİK TESTİ

14. 12.11.2016 tarihinde Londra'da yaşayan çocuklarını ziyarete giden Mehmet Dayı, 9.4.2017 tarihinde geri dönmüştür. Mehmet Dayı çocuklarının yanında ne kadar kalmıştır?

- A) 4 ay 17 gün
- B) 4 ay 27 gün
- C) 1 yıl 4 ay 27 gün
- D) 6 ay 27 gün

15.



Yukarıdaki şekil Gönyeli Çemberi'ne birleşen yolları gösteren bir krokidir. Bu krokiye göre Girne'den gelen ve Güzelyurt'a gitmek isteyen bir araç trafik kurallarına uyararak Gönyeli Çemberi'nde kaç derecelik bir açı dönerek bu yola varır?

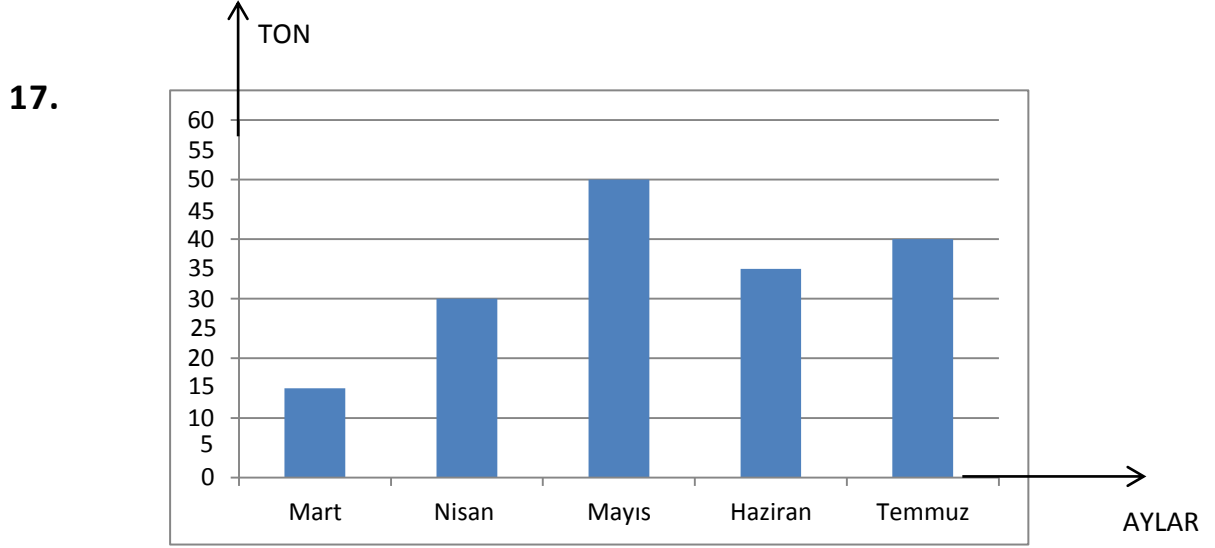
- A) 106°
- B) 111°
- C) 67°
- D) 293°

MATEMATİK TESTİ



Yukarıdaki sayı doğrusunda B ile gösterilmiş sayının ondalık sayı olarak gösterimi aşağıdakilerden hangisidir?

- A) 6.7
- B) 6.16
- C) 6.6
- D) 6.26



Güzelyurtlu portakal üreticisi Avni Dayı'nın portakal bahçesini sulamak için kullandığı su miktarının aylara göre dağılımı yukarıdaki grafikte verilmiştir. Buna göre aşağıdaki ifadelerden hangisi doğrudur?

- A) Temmuz ayında harcanan su miktarı, Nisan ayında harcanan su miktarından daha azdır.
- B) Mayıs ayında harcanan su miktarı, Mart ve Haziran aylarında harcanan toplam su miktarlarına eşittir.
- C) Bahar aylarında harcanan toplam su miktarı 100 tondur.
- D) Beş ayda toplam 180 ton su harcanmıştır.

MATEMATİK TESTİ

18. Mağazasında 80 TL'ye sattığı pantolonları pazar günleri kurulan açık pazarda %40 indirimle satan bir satıcı, pantolonları kaç liradan satmış olur?

- A) 42 TL
- B) 32 TL
- C) 48 TL
- D) 40 TL

19. Muhterem, bir test kitabından her gün bir önceki günün $\frac{1}{2}$ 'si kadar fazla soru çözüyor. Muhterem ilk gün 80 soru çözdüğüne göre 5. gün çözdüğü soru sayısı kaç olur?

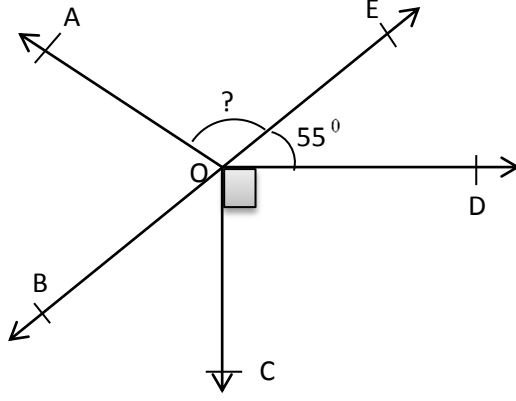
- A) 405
- B) 395
- C) 270
- D) 180

20. Bir su deposunun $\frac{2}{7}$ 'si doludur. Bu depoya 30 litre daha su konursa deponun yarısı dolmuş oluyor. Buna göre bu depo toplam kaç litre su alır?

- A) 112
- B) 132
- C) 136
- D) 140

MATEMATİK TESTİ

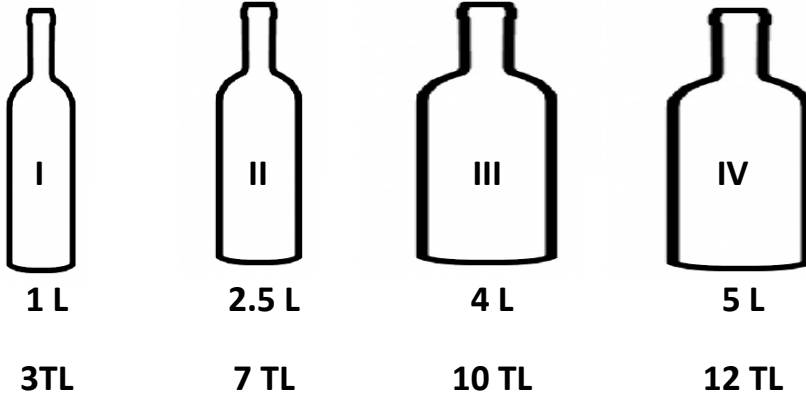
21.



Yukarıdaki şekilde $m(\widehat{DOE})=55^\circ$, $m(\widehat{AOB})$ 'sı $m(\widehat{BOC})$ 'sının iki katı ise $m(\widehat{AOE})$ kaç derecedir?

- A) 110°
- B) 115°
- C) 120°
- D) 125°

22.



Yukarıda dört farklı ambalajda satılan soğuk sıkım zeytin yağlarının fiyatları ve miktarları verilmiştir. Buna göre, en ucuz yağı almak isteyen Nebile Hanım hangisini almalıdır?

- A) I
- B) II
- C) III
- D) IV

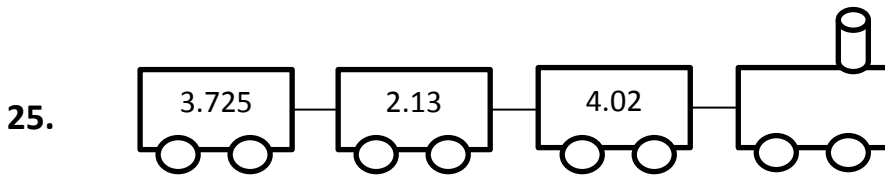
MATEMATİK TESTİ

23. Kare şeklindeki bir masanın üzerine örtülen örtünün çevresinin uzunluğu 8 metredir. Bu örtü masanın her tarafından 35 cm sarktığına göre, bu masanın çevresinin uzunluğu kaç santimetredir?

- A) 420 cm
- B) 520 cm
- C) 660 cm
- D) 1080 cm

24. Okul kaptanlığı seçiminde Kemal oyların %35'ini, Ayşe 0.4'ünü, Hasan $\frac{1}{10}$ 'unu ve Yeşim de $\frac{150}{1000}$ 'sini almıştır. Bu sonuçlara göre kaptan seçilen kimdir?

- A) Kemal
- B) Hasan
- C) Ayşe
- D) Yeşim

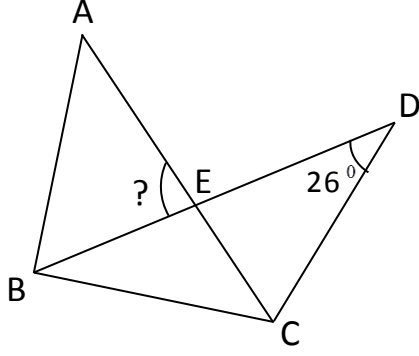


Yukarıdaki trenin vagonları üzerine yazılmış olan ondalık sayıları topladığımız zaman elde ettiğimiz sayının yüzde birler basamağındaki rakam kaç olur?

- A) 8
- B) 7
- C) 6
- D) 9

MATEMATİK TESTİ


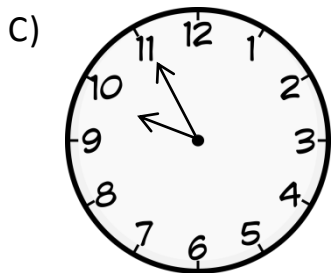

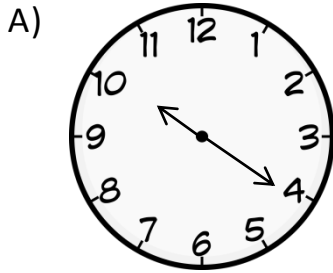
26.



Yukarıdaki şekilde ABC bir eşkenar üçgendir. BCD üçgeninde ise $IBC=ICD$ dir. $m(\widehat{BDC})=26^\circ$ olduğuna göre $m(\widehat{AEB})$ kaç derecedir?

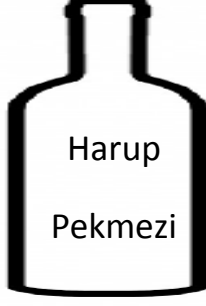
- A) 52°
- B) 73°
- C) 86°
- D) 99°

27. Dün akşam 9 saat 25 dakika uyuyan Arda, sabah saat 07:45'te uyandığına göre akşam saat kaçta yatmıştır?



MATEMATİK TESTİ


28.



Yandaki cam damacananın %65'i harup pekmezi doludur. Damacanaya 21 litre daha pekmez koyarsak tamamı dolmuş olur. Bu damacananın tamamı kaç litre pekmez alır?

- A) 64
- B) 35
- C) 65
- D) 60

29.



Yandaki şeklin yüzde kaç taranmıştır?

- A) % 13
- B) % 26
- C) % 130
- D) % 52

30. Geçitköy Göleti'nden Gönyeli'ye gelen su borusu Gönyeli'deki deponun $\frac{10}{24}$ 'ünü 20 saatte doldurmaktadır. Bu su borusu Gönyeli'deki deponun yarısını kaç saatte doldurur?

- A) 30
- B) 28
- C) 24
- D) 22

MATEMATİK TESTİNİZ BİTMİŞTİR YANITLARINIZI KONTROL EDEREK
İNGİLİZCE TESTİNE GEÇİNİZ.

İNGİLİZCE TESTİ

Choose the correct answer: a, b, c or d.

31. I usually to bed early when I tired.

- A) goes / is
- B) went / am
- C) go / am
- D) go / was

32.



My grandmother a lot when she was young but she does now.

- A) don't cook
- B) didn't cook
- C) cooks
- D) cook

33. My sister can't talk to you now because she

- A) is studying
- B) study
- C) not studies
- D) studying



İNGİLİZCE TESTİ

34. While my dad TV, his telephone

- A) watched / was ringing
- B) watches / rang
- C) watching / ringing
- D) was watching / rang

35. I never enjoyed sport when I was at school. It was my lesson.

- A) doing / worst
- B) do / best
- C) play / worst
- D) doing / best

36. A: I bought a new phone yesterday.

B: Great! Can I see ? Is it the same as ?

- A) them / her
- B) it / mine
- C) you / my
- D) It / their



37. I don't have shampoo. I'll have to buy

- A) some / some
- B) some / any
- C) any / some
- D) any / any

İNGİLİZCE TESTİ

38. I drank a lot of water yesterday it was very hot.

- A) and
- B) or
- C) but
- D) because



39. A: I make you some coffee?

B: No. You sit down. I make it.

- A) Let's / am going to
- B) Could / is going to
- C) Shall / has to
- D) Shall / will

40. There's a good film on the cinema tonight. Shall we go?

- A) at
- B) on
- C) from
- D) to



41. What time do you leave school?

- A) Ten past four.
- B) Ten to four.
- C) Quarter past three.
- D) Ten to three.



İNGİLİZCE TESTİ

42. These are shoes I have. I wear them every day.

- A) more comfortable
- B) most comfortable
- C) comfortable than
- D) the most comfortable



43. A: Have you got any plans for the weekend?

B: Yes, I my grandparents.

- A) will visit
- B) visiting
- C) am going to visit
- D) am going

44. book is this? There is no name on it.

- A) Whose
- B) Who's
- C) Why
- D) When



45. Can I have a big of cereal, please?

- A) bowl
- B) glass
- C) jar
- D) can



İNGİLİZCE TESTİ

Read and answer questions 46-50.

A NICE SATURDAY

“What can I do?” Jane asked her mum on Saturday morning.

“Let’s go to the supermarket!” Mum said. “We can do the shopping and then make lunch.”

“I hate shopping,” Jane said. “It’s boring.”

“OK,” Mum said, “I’ve got a better idea.” She phoned Jane’s grandma.

“Bring Jane to me,” Grandma said. “I love having her here.”

They got in the car and drove to Grandma’s flat. Grandma opened the door and said, “Come on, Jane, we must go shopping. Let’s buy some nice food.”

Grandma took Jane to a market in the street near her flat. They bought lots of good things – vegetables, pasta, bread and a bottle of juice. Jane wanted cola, but Grandma said it wasn’t good for her.

Jane carried it all in a big bag. She took it upstairs carefully.

Grandma cooked the pasta. Jane made a salad. “It’s sunny today,” Grandma said. “Let’s eat on the balcony.”

They sat and enjoyed their lunch. “I like your salad, Jane,” Grandma said. “It’s very good.” Then Mum phoned.

“I’m having a great day,” Jane told her. “We went shopping and made lunch.”

Mum laughed. “Oh, Jane, you are funny!” she said.

46. What doesn’t Jane like doing?

- A) Driving.
- B) Shopping.
- C) Cooking.
- D) Eating.

İNGİLİZCE TESTİ

47. Where did Jane's mum take her?

- A) To the market.
- B) Shopping.
- C) To her grandmother's.
- D) Upstairs.

48. What didn't they buy?

- A) Vegetables.
- B) Bread.
- C) Juice.
- D) Cola.

49. They ate lunch

- A) at the market.
- B) in the car.
- C) on the balcony.
- D) in the street.

50. Which one is wrong?

- A) Jane was bored at home.
- B) Grandma doesn't like having Jane at her flat.
- C) The weather was good.
- D) Grandma and Jane liked their lunch.

İNGİLİZCE TESTİNİZ BİTMİŞTİR YANITLARINIZI KONTROL EDİNİZ.